

	ACTIVITÉS	INDIVIDUEL
Différenciation	Problèmes de comparaison	Exercices 2 3
Différenciation	Soustraction et numération	Exercice 4

Date : .....

## Comparaison de nombres

**2** Dans la classe d'Alex, il y a  enfants.

Dans celle de Lisa, il y en a .

Il y a plus d'enfants dans la classe de Lisa que dans celle d'Alex.

Combien de plus ?

.....

.....

**3** Alex a fait  boules de neige.


Il en a fait  de plus que Lisa.

Combien Lisa a-t-elle fait de boules de neige ?

.....

## Soustraction

**4** Complète.



1 dizaine

1 unité

1 unité

1 dizaine

1 unité

1 unité

1 dizaine

1 unité

1 unité


1 dizaine

1 unité

1 unité

• Lisa prend  unités dans sa boîte.

Il restera  
..... dizaines et ..... unités.



1 unité

1 unité

1 unité

1 dizaine

1 dizaine

1 dizaine

1 dizaine

1 dizaine


1 dizaine

1 dizaine

1 dizaine

• Alex prend  unités dans sa boîte.

Il restera  
..... dizaines et ..... unités.



1 unité

1 dizaine

1 dizaine

1 unité

1 dizaine

1 dizaine

1 dizaine

1 dizaine

1 dizaine

1 dizaine

• Moustik prend  dizaines et  unités dans sa boîte.

Il restera  
..... dizaines et ..... unités.



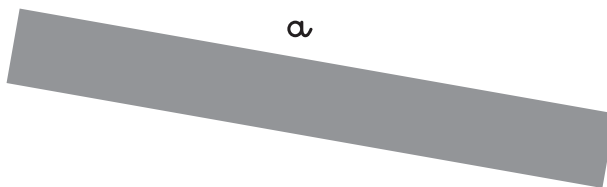


Date : .....

**Mesure de longueurs**

Utilise ta règle à mesurer en papier, à découper à la fin de ton fichier.

4 Complète.

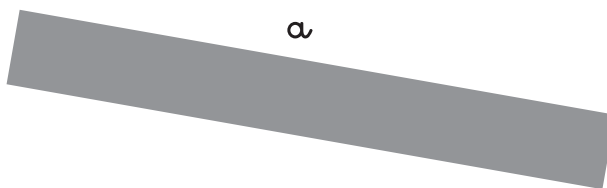
La bande **a** mesure : .....La ligne **b** mesure : .....La ligne **c** mesure : .....Vérifie les mesures de **a**, **b** et **c** avec ton double décimètre.

Date : .....

**Mesure de longueurs**

Utilise ta règle à mesurer en papier, à découper à la fin de ton fichier.

4 Complète.

La bande **a** mesure : .....La ligne **b** mesure : .....La ligne **c** mesure : .....Vérifie les mesures de **a**, **b** et **c** avec ton double décimètre.

Date : .....

## Mesure de longueurs

Pour ces exercices, utilise ton double décimètre.

**3** Complète.

La ligne *a* mesure : .....

*a*

*b*

La ligne *b* mesure : .....

.....

**4** Trace une ligne qui mesure  cm.

Trace une autre ligne qui mesure  cm.