

	ACTIVITÉS	INDIVIDUEL
Différenciation	Soustraction : calcul posé	Exercice 3

Date :

Soustraction

3 Complète.

1 centaine 1 dizaine 1 unité 1 unité
 1 centaine 1 dizaine 1 unité
 1 centaine 1 centaine 1 dizaine 1 unité
 1 centaine 1 centaine 1 dizaine 1 unité
 1 centaine 1 centaine 1 centaine 1 unité

- Lisa prend dizaines et unités dans sa boîte.

Il restera centaines,
 dizaines et unités.

1 centaine 1 unité 1 unité
 1 centaine 1 unité 1 unité
 1 centaine 1 centaine 1 unité
 1 centaine 1 centaine

- Alex prend centaines et dizaines dans sa boîte.

Il restera centaines,
 dizaines et unités.



	ACTIVITÉS	INDIVIDUEL
Différenciation	Encadrement de nombres (entre 2 centaines)	Exercice 3

Date :

Encadrement de nombres

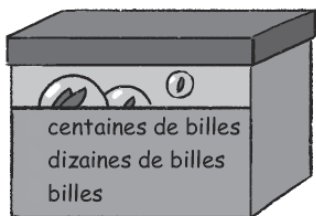
3 Écris chacun de ces nombres sur son sac.

	ACTIVITÉS	INDIVIDUEL
Différenciation	Encadrement de nombres (entre 2 centaines)	Exercice 3

Date :

Problèmes

4 Alex a boîtes de billes comme celle-ci.
Combien a-t-il de billes ?



.....

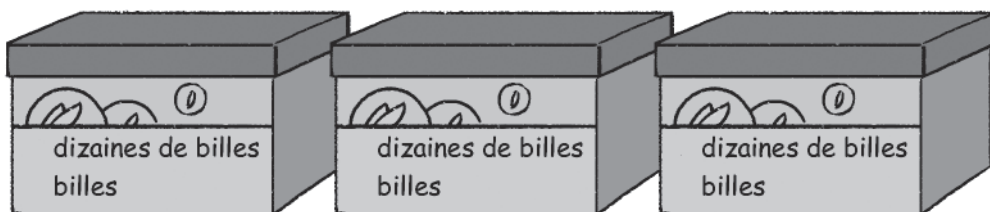


	ACTIVITÉS	INDIVIDUEL
Différenciation	Problème de partage	Exercices 4 5

Date :

Problème

4 Combien Alex a-t-il de billes ?




.....

Date :

Symétrie

- 4** Complète la figure.
Le trait rouge est l'axe de symétrie de la figure.



Date :

Symétrie

- 4** Complète la figure.
Le trait rouge est l'axe de symétrie de la figure.

