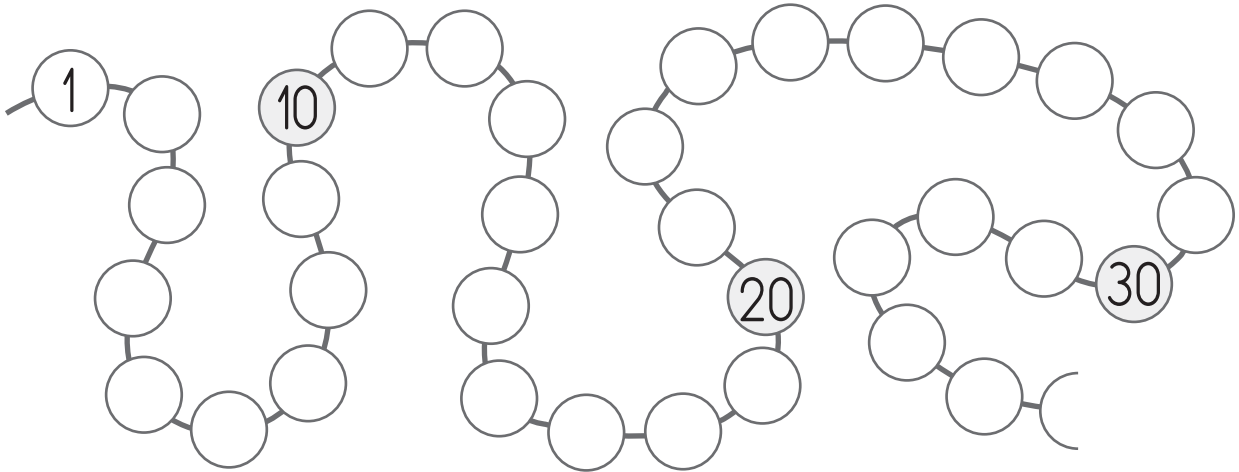


	ACTIVITÉS	INDIVIDUEL
Différenciation	Suite des nombres jusqu'à 39	Exercices 4 5

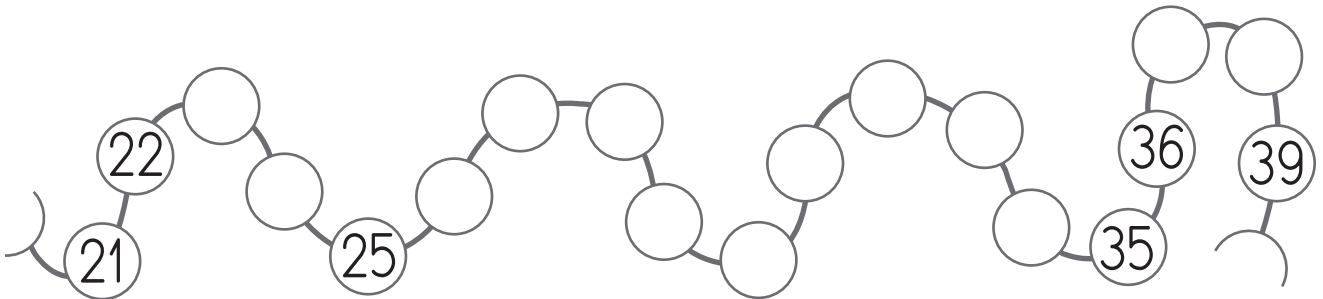
Date :

Suite des nombres jusqu'à 39

4 Écris chaque nombre à sa place.



5 Écris les bons nombres dans les cases bleues.



	ACTIVITÉS	INDIVIDUEL
Différenciation	Répertoire additif, signes +, -, =	Exercices 3 4

Date :

Répertoire additif, signes +, - et =


3 Complète puis entoure les résultats que tu connais par cœur.

$\square + \square = \dots$	$\square + \square = \dots$	$\square + \square = \dots$
$\square + \square = \dots$	$\square + \square = \dots$	$\square + \square = \dots$
$\square + \square = \dots$	$\square + \square = \dots$	$\square + \square = \dots$

.....

4 Complète de différentes façons.

$\dots + \dots = \square$	$\dots - \dots = \square$
$\dots + \dots = \square$	$\dots - \dots = \square$
$\dots + \dots = \square$	$\dots - \dots = \square$



Date :

Répertoire additif, signes +, - et =

3 Complète puis entoure les résultats que tu connais par cœur.

$\square + \square = \dots$	$\square + \square = \dots$	$\square + \square = \dots$
$\square + \square = \dots$	$\square + \square = \dots$	$\square + \square = \dots$
$\square + \square = \dots$	$\square + \square = \dots$	$\square + \square = \dots$

.....

4 Complète de différentes façons.

$\dots + \dots = \square$	$\dots - \dots = \square$
$\dots + \dots = \square$	$\dots - \dots = \square$
$\dots + \dots = \square$	$\dots - \dots = \square$

