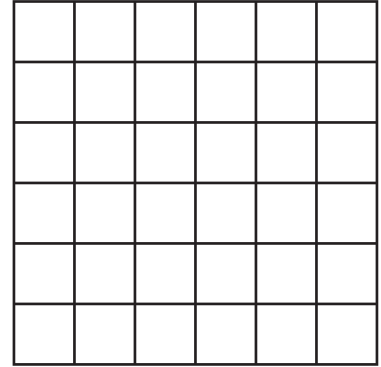



	ACTIVITÉS	INDIVIDUEL
Différenciation	Repérage sur quadrillage	Exercice 2
Différenciation	Répertoire additif	Exercices 3 4

Date :

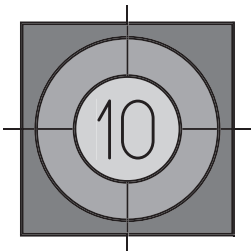
Repérage sur quadrillage

2 Reproduis le modèle.



Répertoire additif : la punta

3 Entoure les personnages qui ont obtenu points au total.







.....

4 Complète.

$\square + \square + \square = \dots$

$\square + \square + \square = \dots$

$\square + \square + \square = \dots$

$\square + \square + \square = \dots$

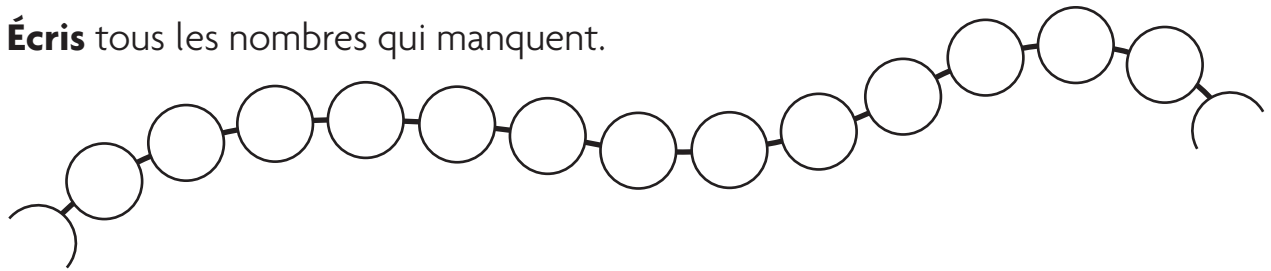
$\square + \square + \square = \dots$

$\square + \square + \square = \dots$

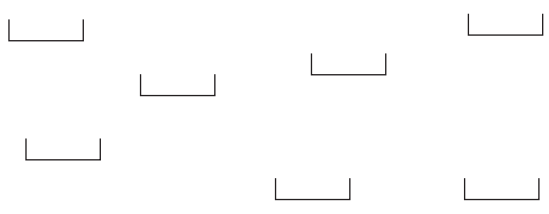
Date :

Suite des nombres jusqu'à 59

3 Écris tous les nombres qui manquent.



4 Écris les nombres effacés par Gribouille.



J'avais écrit tous les nombres de à . Gribouille en a effacé. Lesquels ?

Date :

Répertoire additif

2 Complète pour que le résultat soit égal à .

